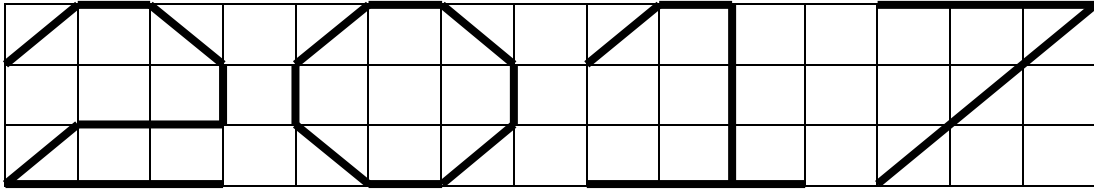


1. චිත්‍ර ශිල්පියෙකු විසින් පැත්තක දිග  $1\text{ cm}$  වූ සමචතුරස්‍ර ජාලයක සරල රේඛා බිඳීම භාවිතයෙන් 2017 සංඛ්‍යාව පහත රූප සටහනෙ දැක්වෙන පරිදි අඳින ලදී. ඔහු විසින් භාවිතා කරන ලද සරල රේඛා බිඳීමවල සම්පූර්ණ දිග සෙන්ටිමීටරවලින් කොපමණ ද?



- (A)  $20 + 10\sqrt{2}$  (B)  $21 + 10\sqrt{2}$  (C)  $20 + 11\sqrt{2}$  (D)  $21 + 11\sqrt{2}$   
 (E)  $21 + 12\sqrt{2}$

2.  $\left\{ \frac{2017}{2018}, \frac{2018}{2019}, \frac{2019}{2020}, \frac{2020}{2021}, \frac{2021}{2022} \right\}$  කුලකයේ කුඩාතම අවයවය කුමක් ද?

- (A)  $\frac{2017}{2018}$  (B)  $\frac{2018}{2019}$  (C)  $\frac{2019}{2020}$  (D)  $\frac{2020}{2021}$  (E)  $\frac{2021}{2022}$

3.  $2017^2$  අසමාන වන්නේ කුමට ද?

- (A)  $2017 \times 2018 - 2017$  (B)  $2016 \times 2017 + 2017$  (C)  $2016 \times 2018 + 1$   
 (D)  $2016 \times 2018 + 2$  (E)  $2015 \times 2019 + 4$

4. පැත්තක දිග  $1\text{ cm}$  වූ ඝනකයන් 2017 ඝනකයන් දෙකක් අතර මුහුණත් එක මත පිහිටන පරිදි ඇලවීමෙන් සංයුක්ත ඝන වස්තුවක් සාදනු ලැබේ. එවැනි ඝන වස්තුවක පෘෂ්ඨ වර්ගඵලයට ගත හැකි උපරිම අගය වර්ග සෙන්ටිමීටර වලින් කොපමණ ද?

- (A)  $6 \times 2017 - 2 \times 2014$  (B)  $6 \times 2017 - 2016$  (C)  $6 \times 2017 - 2 \times 2016$   
 (D)  $6 \times 2017 - 2 \times 2017$  (E)  $6 \times 2017 - 2 \times 2018$

5.  $A = \left\{ \frac{2017}{2018}, \frac{2018}{2019}, \frac{2019}{2020}, \dots \right\}$  නම් පහත ප්‍රකාශන වලින් කුමක්/කුමන ඒවා සත්‍ය වේ ද?

- I.  $A$  හි අවයව ගණන අපරිමිත වේ.  
 II.  $A$  හි විශාලතම අවයවයක් නොපවතී.  
 III. 1 යනු  $A$  හි විශාලතම අවයවයයි.

- (A) කිසිවක් නොවේ (B) I පමණි (C) I හා II පමණි (D) I හා III පමණි (E) සියල්ලම

27.  $S = \{1, 2, \dots, 3000\}$  ලෙස ගන්න.  $S$  හි අවයව 101 කින් සමන්විත සෑම උපකුලකයකම  $|a - b| \leq k$  වන පරිදි  $a$  හා  $b$  නම් එකිනෙකට වෙනස් සංඛ්‍යා දෙකක් පවතින ලෙස  $k < 0$  ගත හැකි කුඩාතම අගය කුමක් ද?

- (A) 29 (B) 39 (C) 49 (D) 59 (E) 69

28. බොරැකාරයන්ගේ දේශයේ සියල්ලන්ම සතියකට දින 6 ක් බොරැඳ ඉතිරි දිනයේ දී ඇත්ත ද කියන අතර ඇත්ත කියන දිනය සෑම පදිංචිකරුවෙකුටම එකම වේ. බොරැකාරයන්ගේ දේශයේ පදිංචිකරුවෙකුට සතියක දින කීයක් පහත ප්‍රකාශය කල හැකිද?  
 ඊයේ ඇත්ත කීවේ නැති නම් මම අනිවාර්යයෙන්ම හෙට ඇත්ත කියමි.

- (A) 1 (B) 2 (C) 3 (D) 4 (E) 5

29. 1, 11, 111, 1111, ... යන සංඛ්‍යා අනුක්‍රමය පිළිබඳව පහත ප්‍රකාශන වලින් කුමක්/කුමන ඒවා සත්‍ය වේ ද?

- I. සෑම හතරේ ගුණාකාර වෙති පදයක්ම 1111 න් බෙදේ.  
 II. පූර්ණ හතරේ බලයක් මුල් පදය හැර අනෙක් පද අතර අවම වශයෙන් එකක් වත් පවතී.  
 III. සෑම  $3^n$  වෙති පදයක්ම  $3^n$  මගින් බෙදේ.

- (A) කිසිවක් නොවේ (B) I පමණි (C) I හා II පමණි (D) I හා III පමණි (E) සියල්ලම

30.  $100 \times 100$  සමචතුරස්‍ර ජාලයක මුලු හතරේ කොටු වලින් එකක් රතු වර්ණයෙන් ද අනෙක් කොටු නිල් වර්ණයෙන්ද වර්ණ ගන්වා ඇත. කිසියම් ජ්‍යෙෂ්ඨයක හෝ තීරුවක වර්ණ රතු පැහැති කොටු නිල් පැහැයෙන් ද නිල් පැහැති කොටු රතු පැහැයෙන් ද වන පරිදි වර්ණ වෙනස් කිරීම කළ හැක. වර්ණ වෙනස් කිරීම මගින් පහත සඳහන් කුමන ඒවා සිදු කළ හැකි ද?

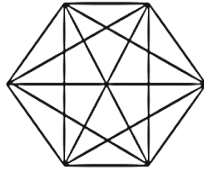
- I. මුලු සියල්ලේම කොටු රතු පැහැ ගැන්වීම.  
 II. මුලු සියල්ලේම කොටු නිල් පැහැ ගැන්වීම.  
 III. එක් මුල්ලක් නිල් පැහැයෙන් ද අනෙක් මුලු රතු පැහැයෙන් ද වර්ණ ගැන්වීම.

- (A) I පමණි (B) II පමණි (C) III පමණි (D) I හා II පමණි (E) සියල්ලම

23.  $p, p + 2, p + 2^2, \dots, p + 2^n$  යන සියල්ලම ප්‍රථමක සංඛ්‍යා වන පරිදි  $p$  නම් ප්‍රථමක සංඛ්‍යාවක් පවතින ලෙස  $n$  ට ගත හැකි විශාලතම ධන නිඛිල අගය කුමක් ද?

- (A) 1 (B) 2 (C) 3 (D) 4 (E) 5

24. සවිධි ෂඩස්‍රයක සියලු ශීර්ෂයන් සරල රේඛා ඛණ්ඩ මගින් එකිනෙකට යා කිරීමෙන් ලබා ගත් පහත රූප සටහනේ ත්‍රිකෝණ කීයක් වේ ද?



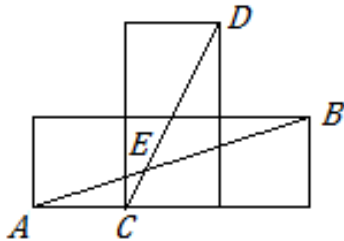
- (A) 80 (B) 90 (C) 100 (D) 110 (E) 120

25.  $100 \times 100$  සමචතුරස්‍ර ජාලයක සෑම කොටුවකම ධන නිඛිලයක් ලියා ඇත්තේ එම සෑම නිඛිලයක්ම යාබද ඉහළ, පහළ, වම් සහ දකුණු සංඛ්‍යාවන්ගේ මධ්‍යන්‍යය වන පරිදි ය. සෑම සංඛ්‍යාවකටම යාබද සංඛ්‍යා 2 ක් 3 ක් හෝ 4 ක් පවතී. පහත ප්‍රකාශනවලින් කුමක් /කුමන ඒවා සත්‍ය වේද?

- I. සියලු සංඛ්‍යා එකිනෙකට එකක් වෙනස් වේ. (ප්‍රතිත්ත වේ.)
- II. සියලුම සංඛ්‍යා සමාන වේ.
- III. සංඛ්‍යා සියල්ලේම එකතුව 8 න් බෙදේ.

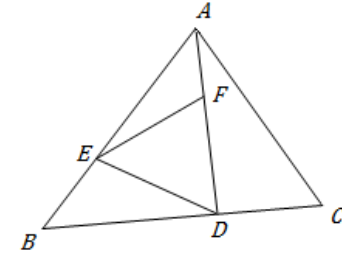
- (A) I පමණි (B) II පමණි (C) III පමණි (D) I හා III පමණි (E) II හා III පමණි

26. පහත රූප සටහනේ සෑම සමචතුරස්‍රයකම පැත්තක දිග  $1 \text{ cm}$  වේ.  $E$  යනු  $AB$  සහ  $CD$  රේඛා ඛණ්ඩවල ජේදන ලක්ෂ්‍යය නම්  $\angle DEB$  කෝණයෙහි විශාලත්වය අංශක වලින් කීය ද?



- (A)  $30^\circ$  (B)  $45^\circ$  (C)  $60^\circ$  (D)  $75^\circ$   
 (E) දෙන ලද දත්ත වලින් විශාලත්වය ගණනය කළ නොහැක

6.  $ABC$  ත්‍රිකෝණයෙහි  $D, E$  හා  $F$  යනු පිළිවෙලින්  $BC, AB$  හා  $AD$  රේඛා ඛණ්ඩ මත  $BD:DC = AE:EB = DF:FA = 2:1$  වන පරිදි වූ ලක්ෂ්‍යයන් වේ.  $\frac{ABC \text{ හි වර්ගඵලය}}{DEF \text{ හි වර්ගඵලය}}$  කුමක් වේ ද?



- (A) 3 (B)  $1/3$  (C)  $8/27$  (D)  $27/8$  (E)  $16/27$

7.  $5, 6, 7, x, x$  යන ධන නිඛිල සංඛ්‍යාවන් ගේ මාතය ඒවායේ මධ්‍යන්‍යයට සමාන නම් ඒවායේ මාතය කුමක් වේ ද?

- (A) 5 (B) 6 (C) 7 (D) 8 (E) 9

8.  $a_1, a_2, a_3, \dots, a_{100}$  යනු

$$(a_1 + a_3 + \dots + a_{99})(a_2 + a_4 + \dots + a_{100}) = 2017.$$

වන පරිදි වූ ඝාණ නොවන නිඛිල සංඛ්‍යා වේ. ඒවායේ එකතුව  $a_1 + a_2 + a_3 + \dots + a_{100}$  කුමක් වේ ද?

- (A) 1008 (B) 2016 (C) 2017 (D) 2018 (E) 4034

9.  $a, 6, 6.5, 7, 12, 2a$  යන සංඛ්‍යා ආරෝහණ පිළිවෙලට දී ඇති නම් ඒවායේ පරාසය කුමක් ද?

- (A) 5 (B) 6 (C) 7 (D) 8 (E) 9

10. සිංහල දෙමළ අලුත් අවුරුදු සාදයකට සහභාගිවන්නන් අතරින් සිංහල පිරිමි සහ සිංහල කාන්තාවන් අතර අනුපාතය  $2:3$  වන අතර දෙමළ පිරිමි සහ දෙමළ කාන්තාවන් අතර අනුපාතය  $3:2$  වේ. සිංහල පිරිමි සහ දෙමළ පිරිමි සමාන සංඛ්‍යාවක් සාදයට සහභාගි වී සිටී නම් සිංහල හා දෙමළ වැඩිහිටි අය අතර පිරිමින් සහ කාන්තාවන් අතර අනුපාතය කුමක් වේ ද?

- (A) 6:9 (B) 25:12 (C) 12:25 (D) 13:12 (E) 12:13

11.  $10 \times 10$  සමවකුරු ජාලයක සෑම කොටුවක්ම නිල් හෝ රතු වර්ණවලින් වර්ණ ගන්වනු ලැබේ. සෑම කොටුවක්ම වෙනස් නම් විවිධ වර්ණ ගැන්විය හැකි ආකාර කීයක් වේ ද?

- (A) 100 (B) 200 (C)  $2^{10}$  (D)  $2^{20}$  (E)  $2^{100}$

12.  $m$  සහ  $n$  යනු  $3m + 7n$  යන්න 11 න් බෙදෙන පරිදි වූ ධන නිඛිල සංඛ්‍යා දෙකකි. පහත සංඛ්‍යාවලින් කුමන සංඛ්‍යාව සෑම විටම 11 න් බෙදේ ද?

- (A)  $m + n$  (B)  $m + n + 5$  (C)  $9m + 4n$  (D)  $4m - 9n$  (E)  $6m + 4n$

13. එක්තරා ක්‍රීඩාවක දී සධාරණ කාසියක් කිසියම් වාර ගණනක් උඩ දැමීම සිදු කෙරේ. සිරස වැටෙන සෑම වතාවකම ලකුණු 1 බැගින් ද අගය වැටෙන සෑම අවස්ථාවකම ලකුණු  $-1$  බැගින් ද ක්‍රීඩකයාට හිමි වේ. පහත ප්‍රකාශනවලින් කුමක්/කුමන ඒවා සත්‍ය වේ ද?

- I. කාසිය 10 වතාවක් උඩ දැමීමෙන් ලකුණු 5 ක් ලබා ගත හොහැක.
- II. කාසිය 5 වතාවක් උඩ දැමීමෙන් ලකුණු 3 ක් ලබා ගත හැකි ආකාර (සිරස සහ අගයන් අනුක්‍රමයන්) පවතින්නේ එකක් පමණි.
- III. ලකුණු 0 ක් ලබා ගත හැක්කේ කාසිය ඉරට්ටේ වාර ගණනක් උඩ දැමීමෙන් පමණි.

- (A) I පමණි (B) II පමණි (C) III පමණි (D) I හා II පමණි (E) I හා III පමණි

14. ධන නිඛිල සංඛ්‍යා පහක් ඇත්තේ ඒවා අතරින් ඕනෑම සෑම සංඛ්‍යා තුනක එකතුව අවම වශයෙන් 60 ක් වන පරිදිය. පහත ප්‍රකාශනවලින් කුමක්/කුමන ඒවා සත්‍ය වේ ද?

- I. සෑම නිඛිලයක්ම අවම වශයෙන් 20 කි.
- II. ගුණිතය අවම වශයෙන්  $20^3$  වූ නිඛිල තුනක් පවතී.
- III. ඕනෑම නිඛිලයන් තුනක ගුණිතය අවම වශයෙන්  $20^3$  කි.

- (A) I පමණි (B) II පමණි (C) I හා II පමණි (D) II හා III පමණි (E) සියල්ලම

15. අගනරු හෝඩියේ  $X$  හා  $Y$  යන අකුරු දෙක පමණක් භාවිතා වේ. ඕනෑම අකුරු ගණනක අනුක්‍රමයක් අගනරු භාෂාවේ වචනයක් වේ. අගනරු භාෂාවේ ඇති අකුරු උපරිම වශයෙන් 5 ක් අඩංගු වන වචන ගණන කීයක් වේ ද?

- (A) 30 (B) 32 (C) 42 (D) 52 (E) 62

16.  $ABC$  යනු පාදයක දිග  $10 \text{ cm}$  වූ සමපාද ත්‍රිකෝණයක් හා  $P$  යනු අවකාශයේ පිහිටි ලක්ෂ්‍යයකි.  $3PA + 4PB + 7PC$  ට ගත හැකි අවම අගය සෙවීමට වලින් කීයද?

- (A) 50 (B) 60 (C) 70 (D) 80 (E) 90

17. අගනරු භාෂාවේ (ප්‍රශ්න අංක 15 බලන්න) ඕනෑම  $Y$  අකුරු දෙකක් මැද අවම වශයෙන් එක  $X$  අකුරක් පවතින පරිදි වූ  $X$  අකුරු 10 කින් සහ  $Y$  අකුරු 5 කින් සමන්විත වූ එකිනෙකට වෙනස් වචන කීයක් වේ ද?

- (A) 221 (B) 442 (C) 462 (D) 542 (E) 562

18.  $n$  ධන නිඛිලය සඳහා  $k$  යනු  $n(n+1)(n+2)$  යන්න  $2^k$  මගින් බෙදෙන පරිදි වූ විශාලතම ධන නිඛිලය නම්  $f(n) = k$  ලෙස ගනිමු. පහත ප්‍රකාශනවලින් කුමක්/කුමන ඒවා සත්‍ය වේ ද?

- I. සියලුම ධන නිඛිල  $m$  සඳහා  $f(n) = m$  වන පරිදි  $n$  නම් ධන නිඛිලයක් පවතී.
- II.  $f(n) = f(n+1)$  වන පරිදි  $n$  නම් ධන නිඛිලයක් පවතී.
- III.  $f(n) = 1$  පරිදි  $n$  නම් ධන නිඛිල අපිරිමිත සංඛ්‍යාවක් පවතී.

- (A) I පමණි (B) II පමණි (C) III පමණි (D) I හා II පමණි (E) I හා III පමණි

19. කළුලේලක් මත 1 සංඛ්‍යාව 100 වාරයක් ලියා ඇත. ඕනෑම සංඛ්‍යා දෙකක් තෝරා ගෙන එම සංඛ්‍යා දෙක සමාන නම් සංඛ්‍යා දෙක මකා දමා 0 ලිවීම හෝ එම සංඛ්‍යා දෙක අසමාන නම් සංඛ්‍යා දෙක මකා දමා 1 ලිවීම යන ක්‍රියාකාරකම අඛණ්ඩව සිදුකරන්නේ යැයි සලකන්න. කළුලේලේ අවසානයටම ලියවෙනු ඇති සංඛ්‍යාව කුමක්ද?

- (A) 0 (B) 1 (C) 2 (D) 3 (E) 4

20. 5 ට වඩා විශාල සෑම  $p$  ප්‍රථමක සංඛ්‍යා සඳහාම  $p^4 - 1$  යන්න බෙදෙනු ලබන විශාලතම නිඛිලය කුමක් ද?

- (A) 12 (B) 30 (C) 48 (D) 120 (E) 240

21.  $a < b - 4$  වන පරිදි වූ  $\{1, 2, \dots, 10\}$  හි  $\{a, b\}$  උපකුලක කීයක් වේද?

- (A) 10 (B) 15 (C) 20 (D) 25 (E) 30

22.  $f$  යනු සියලු  $i = 1, 2, 3, 4$  සඳහා  $f(i), \{1, 2, 3, 4\}$  හි අවයවක් වන පවරා දීමකි.  $f(f(i)) = i$  වන පරිදි විවිධ පවරා දීම් කීයක් තිබේ ද?

- (A) 9 (B) 10 (C) 12 (D) 13 (E) 19